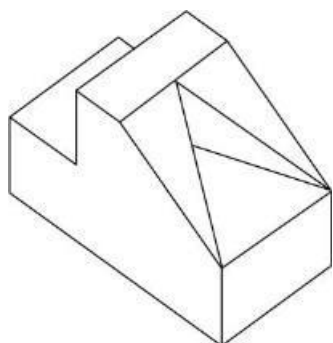


# 永平工商一〇三學年度第二學期第一次段考考試卷

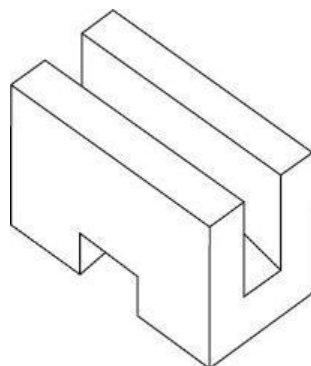
考試期程：	<input type="checkbox"/> 1-3	<input type="checkbox"/> 1-4	<input type="checkbox"/> 2-2	<input type="checkbox"/> 2-3	<input type="checkbox"/> 2-4	<input type="checkbox"/> 3-3	<input checked="" type="checkbox"/> 3-4
一年級適用班級：							
二年級適用班級：	廣設二甲						
三年級適用班級：							
命題範圍	基礎製圖第五章	審題：				姓名	
科目：基礎製圖	命題教師：鄒麗梅	班級：		座號			

畫出下列正立方體的三視圖(每題 25 分)

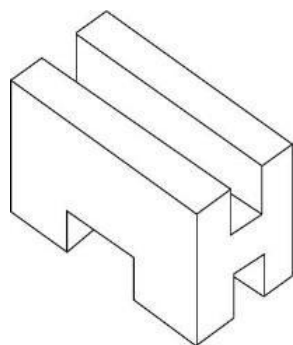
一、



二、



三、



四、

